

试卷代号:2425

座位号

中央广播电视大学 2009—2010 学年度第一学期“开放专科”期末考试(开卷)

汽车文化 试题

2010 年 1 月

题号	一	二	三	四	五	总分
分数						

得分	评卷人

一、判断题(对打“√”,错打“×”。每题 1 分,共 20 分)

1. ABS 技术是 EBD、TCS、ESP 等主动安全技术的基础。()
2. 雷诺汽车公司是法国第一大汽车公司。()
3. 汽车的驱动力只与发动机的转矩和传动比有关。()
4. 由车辆识别代号编码(VIN)可以读出汽车的车身型式和生产年份。()
5. 费迪南德·波尔舍既是大众汽车公司的创始人,也是保时捷汽车公司的创始人。()
6. 格拉纳达-达喀尔拉力赛车 312,表示该赛车是小型车组的第 12 号。()
7. F1 赛车可以采用 ABS 和增压助力装置。()
8. 指南车和记里鼓车是由中国人发明的。()
9. 梅斯德斯(Mercedes)是德国宝马汽车公司的汽车品牌。()
10. 菲亚特车标是“意大利都灵汽车制造厂”的缩写。()
11. F1 赛车总重量在正式比赛中不少于 600 公斤。()
12. 世界上第一台蒸汽机是由瓦特发明的。()
13. 世界上第一辆两轮摩托车是由德国人戈特利布·戴姆勒于 1885 年发明的。()
14. 欧洲、日本轿车的普及是靠推广微型汽车而实现的。()

15. F1 赛车发动机采用 10 缸 3 升排量的涡轮增压四冲程汽油机。()
16. 二汽早期生产的东风 EQ140 型卡车,是自主设计制造的。()
17. 吉利控股集团有限公司是中国第一家民营汽车公司。()
18. 汽车的空气阻力与车速成线性比例关系。()
19. 根据我国对汽车的定义,两轮摩托车和三轮机动车都不属于汽车的范畴。()
20. 三效催化转化器可以有效地降低 HC、CO 和 NO_x。()

得 分	评卷人

二、填空题(每空 1 分,共 30 分)

1. 用来评定汽车性能的主要指标有:_____、_____、
_____, _____、_____和 _____
_____等。
2. 根据国标 GB/T9417-1988《汽车产品型号编制规则》,汽车分为_____
_____, _____、_____, _____、_____
_____, _____等 8 大类。
3. 国标 GB/T9417-1988 轿车依据_____划分为_____
_____, _____、_____, _____
_____等 5 个档次
4. 据国标 GB/T3730. 1-2001《汽车和挂车类型的术语和定义》分类,汽车分为
_____和 _____两大类。
5. 宝马 318iA 汽车的发动机排量是_____毫升。
6. 大众汽车公司的 Polo 汽车属于_____级汽车。
7. 克莱斯勒汽车公司拥有_____, _____、_____
_____, _____等汽车品牌。
8. 汽车行驶的两个基本条件是:_____, _____。

得 分	评卷人

三、选择题(每题 1 分,共 20 分)

- ()被尊称为“汽车之父”。
 - 波尔舍
 - 本茨
 - 福特
 - 迈巴赫
- 柴油机是由()发明的。
 - 奥托
 - 狄塞尔
 - 汪克尔
 - 雷诺尔
- ()被尊称为“汽车大王”。
 - 波尔舍
 - 本茨
 - 福特
 - 迈巴赫
- PSA 集团是由()两家汽车公司合并而成的。
 - 标致和雪铁龙
 - 标致和雷诺
 - 奔驰与宝马
 - 奔驰和克莱斯勒
- “丰田生产方式”是由()发明的。
 - 丰田佐吉
 - 丰田喜一郎
 - 丰田利三郎
 - 大野耐一
- 美洲虎汽车公司的车标是一只()。
 - 雄狮
 - 公牛
 - 捷豹
 - 跃马
- 把福特大批量流水线生产方式引入法国是()。
 - 雪铁龙
 - 标致
 - 雷诺
 - 勒瓦索
- 最早大批量流水线生产汽车的公司是()。
 - 法国 P&L
 - 德国奔驰
 - 美国通用
 - 美国福特
- F1 赛车鼻锥前端与前轴中心线间的距离不得超过()。
 - 1.0 米
 - 1.2 米
 - 1.4 米
 - 1.8 米

得 分	评卷人


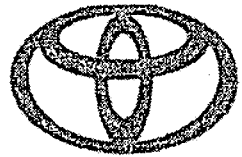

四、问答题(每题 5 分,共 20 分)

1. 福特是如何让汽车走进美国平常百姓家的?
2. 汽车的轴距、轮距和离地距对汽车的性能有何影响?
3. 中国第一家民营汽车企业是什么公司? 其车标有何寓意?
4. 迈巴赫轿车品牌最早是由谁创建? 属于哪一级别的轿车? 车标中的两个“M”代表什么意思?

么意思?

得 分	评卷人

五、写出下列车标的名称(每题 1 分,共 10 分)



试卷代号:2425

中央广播电视大学 2009—2010 学年度第一学期“开放专科”期末考试(开卷)

汽车文化 试题答案及评分标准

(供参考)

2010 年 1 月

一、判断题(对打“√”,错打“×”。每题 1 分,共 20 分)

- | | | | | |
|-------|-------|-------|-------|-------|
| 1. √ | 2. × | 3. × | 4. √ | 5. √ |
| 6. × | 7. × | 8. √ | 9. × | 10. √ |
| 11. √ | 12. × | 13. √ | 14. √ | 15. × |
| 16. × | 17. √ | 18. × | 19. √ | 20. √ |

二、填空题(每空 1 分,共 30 分)

- 动力性 燃油经济性 制动性 操控稳定性 行驶平顺性 通过性(越野性)
- 载货汽车 越野汽车 自卸汽车 牵引车 专用汽车 客车 轿车
半挂车
- 发动机排量 微型轿车 普通轿车 中级轿车 中高级轿车 高级轿车
- 乘用车 商用车
- 1800
- A
- 克莱斯勒 道奇 顺风 鹰·吉普
- 驱动条件 附着条件

三、选择题(每题 1 分,共 20 分)

- | | | | | |
|-------|-------|-------|-------|-------|
| 1. B | 2. B | 3. C | 4. A | 5. D |
| 6. C | 7. A | 8. D | 9. B | 10. B |
| 11. A | 12. D | 13. A | 14. A | 15. B |
| 16. B | 17. A | 18. C | 19. D | 20. D |

四、问答题(每题 5 分,共 20 分)

1. 福特是如何让汽车走进美国平常百姓家的?

答:福特设计制造一种价格低廉、使用方便、维护容易的 T 型车。该车的各种零件被首次设计成统一规格,实现了总成互换;在大型总装车间,别人发明的流水线装配法被发展成为了由机械传送带运送零件和工具,极大地提高了工作效率;采用低定价的销售策略,使大多数人都能购买得起;提供充足的零部件和及时的售后服务保障,消除了用户的后顾之忧;大幅度提高工人工资,以求提高工作效率、降低生产成本。T 型车成为普通民众的交通工具,改变了人们的生活方式、思维方式和娱乐方式,将人类带入了汽车时代。

2. 汽车的轴距、轮距和离地距对汽车的性能有何影响？

答：轴距是影响乘坐空间最重要的因素，长轴距使乘员的纵向空间增大，直接得益的是对乘坐舒适性影响很大的脚部空间。在行驶性能方面，长轴距能提高直路巡航的稳定性，但转向灵活性下降，回旋半径增大。

在操控性方面，轮距越大，转向极限和稳定性也会提高，很多高性能跑车车身叶子板都向外抛，就是为了尽量扩大轮距。

离地距必须确保汽车在行走崎岖道路、上下坡时的通过性，即保证不刮底。但离地距高也意味着重心高，影响操控性。


3. 中国第一家民营汽车企业是什么公司？其车标有何寓意？

答：中国第一家民营汽车企业是吉利控股集团有限公司。其车标中的椭圆象征地球，表示面向世界、走向国际化；椭圆在动态中是最稳定的，喻示及祝愿吉利的事业稳如磐石，在风雨中屹立不倒。6个6象征：太阳的光芒，只有走进太阳，才能吸取无穷的热量，只有经过竞争的洗礼，才能百炼成钢；六六大顺，祝愿如意、吉祥；吉利一步一个台阶，不断超越，发展无止境；中华优秀传统文化的底蕴才是吉利不断发展超越的精神源泉；发展民族工业，走向世界，是吉利不舍不弃的追求。内圈蔚蓝象征广阔的天空，超越无止境，发展无止境。外圈深蓝象征无垠的宇宙，超越无限，空间无限。

4. 迈巴赫轿车品牌最早是由谁创建？属于哪一级别的轿车？车标中的两个“M”代表什么意思？

答：迈巴赫轿车品牌最早是由威廉姆·迈巴赫(Wilhelm Maybach)创建。迈巴赫轿车属于超豪华汽车。迈巴赫车标两个交叉的“M”原本代表“Maybach Motorenbau”(迈巴赫发动机)之义，现解作“Maybach Manufaktur”(迈巴赫制造)。

五、写出下列车标的名称(每题1分,共10分)




水星



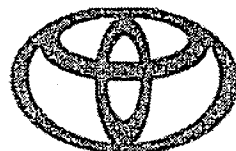
庞蒂亚克



奇瑞



莲花



丰田



中华



美洲虎



雪佛兰



马自达



林肯