

试卷代号:2445

座位号

中央广播电视大学 2009—2010 学年度第一学期“开放专科”期末考试

Dreamweaver 网页设计 试题


2010 年 1 月

题号	一	二	三	总分
分数				

得分	评卷人

一、单项选择题(每个题只有一个选项是正确的。每题 3 分,共 60 分)


1. 进行站点设置时,关于下图的设置正确的说法是()。






- A. 根文件夹与存储图片的文件夹属于同一个根目录
- B. “启用缓存”的选中可以加快站点管理任务的速度
- C. 用户为自己的站点命名为 myweb
- D. 用户指明了站点在互联网上的域名

2. 如果希望网页经过 5 秒后进行自动刷新,在下图的“延迟”对话框中应输入()。

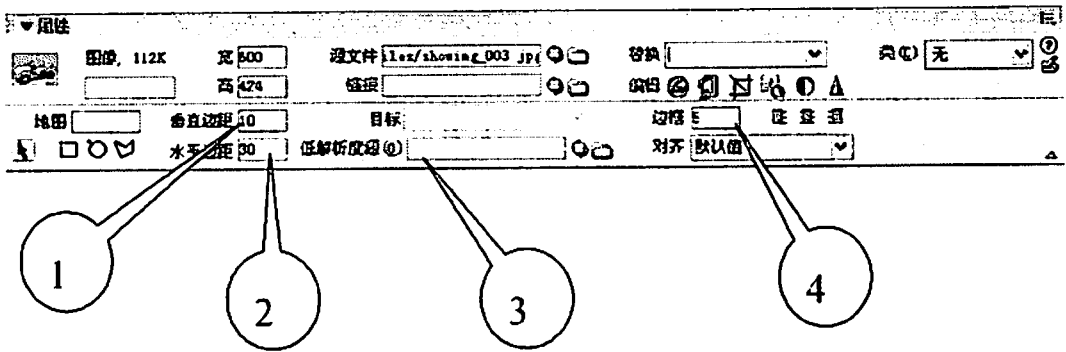
- A. 3
- B. 4
- C. 5
- D. 6



3. 在 Dreamweaver8 中插入关键字,应采用()操作。

- A. 通过单击“属性”面板中的“快速标签编辑器”
- B. 通过单击 HTML 插入栏中的按钮 
- C. 通过单击 HTML 插入栏中的按钮  table
- D. 通过单击 HTML 插入栏中的二级按钮 

4. 在下图的图片属性面板中,如果希望提高在线浏览时图片下载的速度,可(),然后链接一个黑白图片。

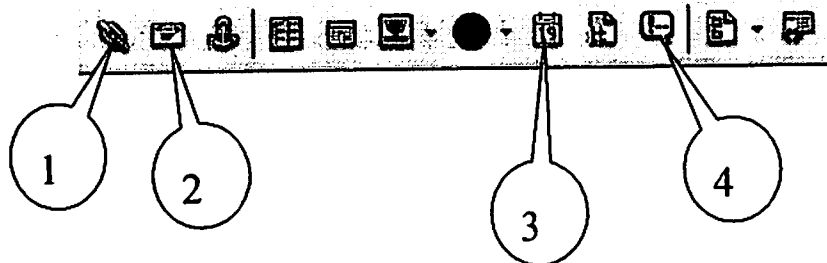


- A. 点击标志 1
- B. 点击标志 2
- C. 点击标志 3
- D. 点击标志 4

5. 关于替换文本的描述正确的是()。

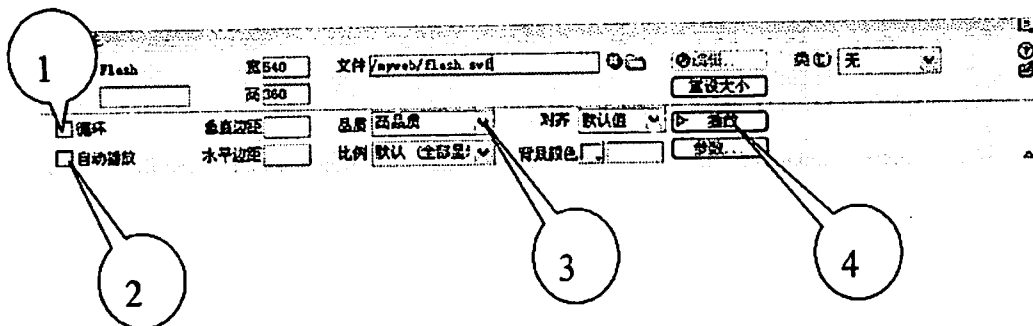
- A. 设计鼠标经过图像时,必须设置替换文本
- B. 替换文本的作用是代替对应的图片
- C. 替换文本的作用是当鼠标指向对应的图片时,在鼠标位置旁会弹出一个包含替换文本内容的文本显示区域
- D. 设计导航条时,必须设置替换文本

6. 如果要在网页中插入注释,可通过()然后进行有关的设置。



- A. 点击标志 1
- B. 点击标志 2
- C. 点击标志 3
- D. 点击标志 4

7. 在下图的属性面板中,如果要设置 flash 动画的品质,应()。




- A. 点击标志 1 所对应的复选框
- B. 点击标志 2 所对应的复选框
- C. 点击标志 3 进行设置
- D. 点击标志 4 进行设置

8. 下列()是 Dreamweaver 8 中样式表文件的扩展名。

- A. .dwt
- B. .css
- C. .lbi
- D. .cop

9. 下面关于加载的音频文件的参数设置对话框中,autostart 的作用是()。



- A. 如果对应的值为“true”,则可以实现循环播放音乐的效果
- B. 如果对应的值为“false”,则可以实现循环播放音乐的效果
- C. 如果对应的值为“true”,则可以实现自动播放音乐的效果
- D. 如果对应的值为“false”,则可以实现自动播放音乐的效果

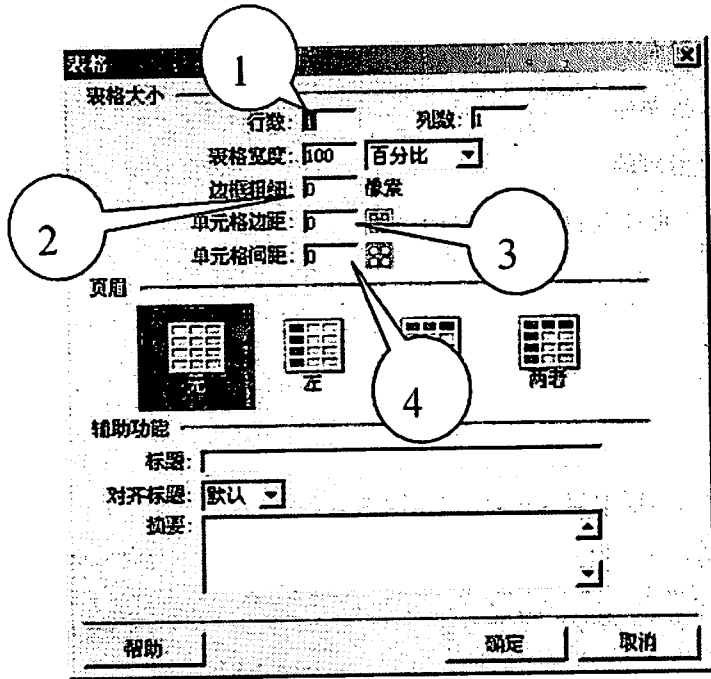
10. 点击某个设置了超链接的文字, 希望在当前网页所在的页面中打开网页, 目标选项应设置为()。

- A. _blank
- B. _self
- C. _http
- D. _URL

11. 在 HTML 语言中, 如果要对文字的字号进行修饰, 则在代码段中会有()代码。

- A. font-family: "宋体";
- B. font-size: 9pt;
- C. color: #990000
- D. href=" ../example1/2.html"

12. 设置表格中的边框粗细, 应在()数字。

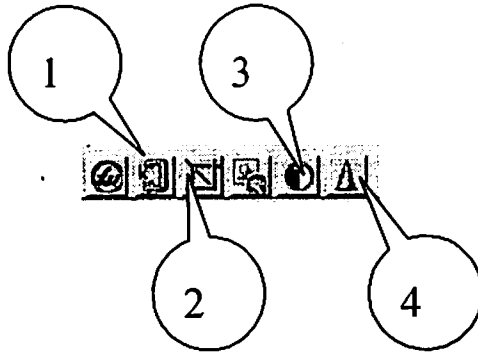


- A. 箭头 1 指向的框中输入
- B. 箭头 2 指向的框中输入
- C. 箭头 3 指向的框中输入
- D. 箭头 4 指向的框中输入

13. 表单域中的菜单元素, ()。

- A. 正常状态下只能看到一个选项
- B. 比较浪费显示空间
- C. 无需点击按钮就可以看到各种选项
- D. 菜单完全显示时可能出现滚动条

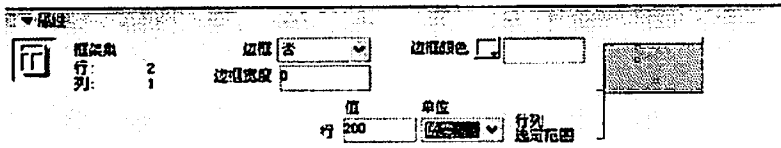
14. 如果想对图片进行锐化处理,可以选择()按钮。



- A. 箭头 1 指向的
 - B. 箭头 2 指向的
 - C. 箭头 3 指向的
 - D. 箭头 4 指向的
15. 下列()可能是自定义样式的名子。

- A. body
- B. .pic
- C. text
- D. c

16. 在下图所示的框架面板中,说法正确的是()。



- A. 上部框架的高度为 200 个像素
 - B. 现在对下部的框架进行设置
 - C. 下部框架的高度是一个相对值
 - D. 上部框架的高度是一个相对值
17. 在曲线飘浮动画中,设置层的不同位置应与()对应。
- A. 时间轴
 - B. 行为面板
 - C. 任意帧
 - D. 关键帧

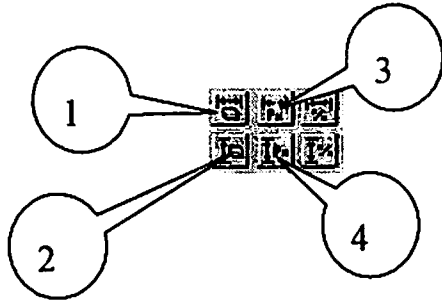
18. 在 Dreamweaver 8 中,下面关于对表格中的数据进行排序的说法错误的是()。
- A. Dreamweaver 8 提供了一种类似邮政编码排序的分类工具“表格排序”,对表格中的数据进行排序
 - B. 在默认情况下,Dreamweaver 8 不对第一行进行排序
 - C. 可以通过设置使 Dreamweaver 8 对头行进行排序
 - D. 在默认情况下,Dreamweaver 8 只对脚行进行排序
19. 关于在 Dreamweaver 中插入 Flash 文本,说法错误的是()。
- A. 通过插入 Flash 文本,用户可以直接创建一个 Flash 文本对象的动画
 - B. 可以设置 Flash 文本的字体、字号、文本颜色、鼠标转滚颜色等属性
 - C. 可以设置 Flash 文本的动态效果,如淡入淡出等
 - D. 可以为 Flash 文本设置链接
20. 要在页面上创建一个指向上一级目录中文件 picture1. htm 的链接,在属性检查器的链接栏中应该输入()。
- A. / picture1. htm
 - B. ../ picture1. htm
 - C. picture1. htm
 - D. mailto: picture1. htm

得 分	评卷人

二、多项选择题(将一个以上正确的答案代码填入括号中,每小题 4 分,共 20 分)

1. 以下()内容是 HTML 文件的头部内容所包括的。
- A. 作者信息、网页描述
 - B. 锚点
 - C. 自动刷新
 - D. 新注释、表单域

2. 关于表格属性设置,下列说法正确的是()。



- A. 箭头 1 指向的按钮功能为清除行高
- B. 箭头 2 指向的按钮功能为清除行高
- C. 箭头 3 指向的按钮功能为将表格宽度转换为百分比
- D. 箭头 4 指向的按钮功能为将表格高度转换为像素

3. 如下图所示,说法正确的是()。

- A. 这是一个菜单,它的 HTML 标签是 `<option name = "select" size = "5">`
`</option>`
- B. 如果选项数超出了设定数量,会自动出现滚动条
- C. 浏览者可以通过拖曳滚动条来观看各选项
- D. 这种菜单的设置是通过快捷工具栏中的“常用—表格”来实现的



4. 下列关于热区的使用,说法正确的是()。

- A. 使用矩形热区工具、椭圆形热区工具和多边形热区工具,分别可以创建不同形状的热区
- B. 热区一旦创建之后,便无法再修改其形状,必须删除后重新创建
- C. 选中热区之后,可在属性面板中为其设置链接
- D. 使用热区工具可以为一张图片设置多个链接

5. 在 Dreamweaver 中,关于框架的描述,正确的是()。

- A. 框架是浏览器窗口中的一个区域,可以显示与其余部分中显示内容无关的网页
- B. 框架可实现在一个浏览器窗口中显示多个 HTML 页面
- C. 一个框架结构中最多可以有 3 个子框架
- D. 框架结构由框架和框架集两部分构成

得分	评卷人

三、填空题(每小题 4 分,共 20 分)

1. 放置在本地磁盘上的网站称为_____ ;处于 Internet 上 Web 服务器里的网站被称为_____。
2. 高级样式是一种特殊类型的样式,常用的有四种,分别是_____、_____、a:visited 和 a:hover。
3. 表格的单元格标签是_____。
4. 每个表单都是由一个表单域和若干个_____组成的。
5. 创建模板的方式有两种,一种是将现有的文件另存为模板,另一种是_____。

试卷代号:2445

中央广播电视大学 2009—2010 学年度第一学期“开放专科”期末考试

Dreamweaver 网页设计 试题答案及评分标准

(供参考)

2010 年 1 月

一、单项选择题(每个题只有一个选项是正确的。每题 3 分,共 60 分)

- | | | | | |
|-------|-------|-------|-------|-------|
| 1. B | 2. C | 3. D | 4. C | 5. C |
| 6. D | 7. C | 8. B | 9. C | 10. B |
| 11. B | 12. B | 13. A | 14. D | 15. B |
| 16. A | 17. D | 18. D | 19. C | 20. B |

二、多项选择题(将一个以上正确的答案代码填入括号中,每小题 4 分,共 20 分)

- | | | | | |
|-------|-------|-------|--------|--------|
| 1. AC | 2. BD | 3. BD | 4. ACD | 5. ABD |
|-------|-------|-------|--------|--------|

三、填空题(每小题 4 分,共 20 分)

1. 本地站点 远程站点
2. a:link a:active
3. <td></td>
4. 表单元素
5. 直接新建一个空白的模板